



ع

ض

D

ك

4

*

1

إدارة الامتحانات والاختبارات
قسم الامتحانات العامة

امتحان شهادة الدراسة الثانوية العام لعام 2025

طلاب الأستاذ عمار الكركي) مدة الامتحان: $\frac{30}{0}$: د : س

رقم الجلوس:

رقم المبحث:

رقم النموذج: (1)

المبحث: الرياضيات الأعمال

الحقل:

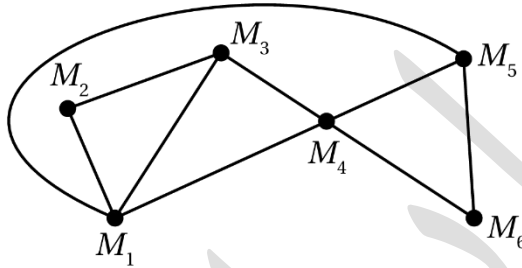
اسم الطالب:

الدرس الخامس : مخططات أويلر

الوحدة الثانية : الخوارزميات ونظرية المخططات

أجب عن جميع الأسئلة وعددها 50 سؤال :

1. أتاأل المخطط المجاور ، ثم أأدد

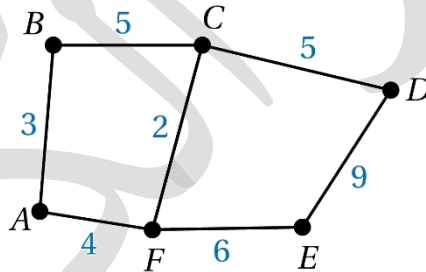


أ) مخطط أويلري

ب) مخطط شبه أويلري

ج) غير ذلك

2. أتاأل المخطط المجاور ، ثم أأدد

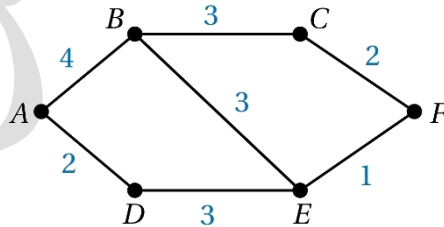


أ) مخطط أويلري

ب) مخطط شبه أويلري

ج) غير ذلك

3. أتاأل المخطط المجاور ، ثم أأدد

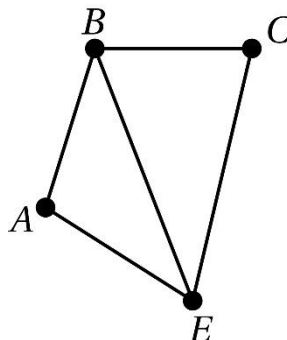


أ) مخطط أويلري

ب) مخطط شبه أويلري

ج) غير ذلك

4. أتاأل المخطط المجاور ، ثم أأدد

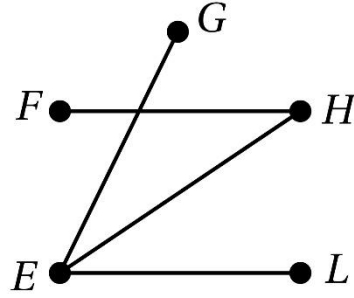


أ) مخطط أويلري

ب) مخطط شبه أويلري

ج) غير ذلك

5. أتاأمل المخطط المجاور ، ثم أأدد

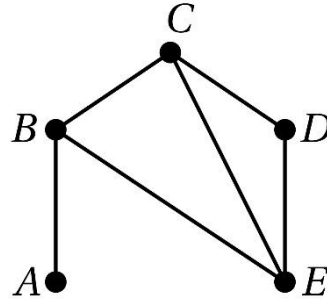


أ (مخطط أويلري

ب (مخطط شبه أويلري

ج (غير ذلك

6. أتاأمل المخطط المجاور ، ثم أأدد

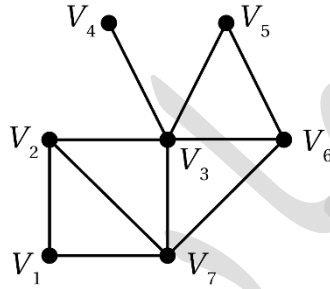


أ (مخطط أويلري

ب (مخطط شبه أويلري

ج (غير ذلك

7. أتاأمل المخطط المجاور ، ثم أأدد

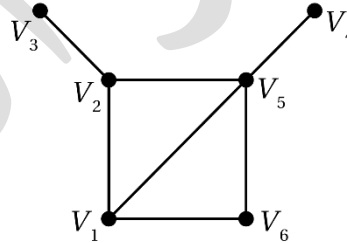


أ (مخطط أويلري

ب (مخطط شبه أويلري

ج (غير ذلك

8. أتاأمل المخطط المجاور ، ثم أأدد

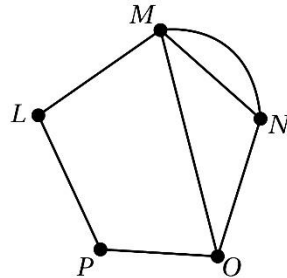


أ (مخطط أويلري

ب (مخطط شبه أويلري

ج (غير ذلك

9. أتاأمل المخطط المجاور ، ثم أأدد

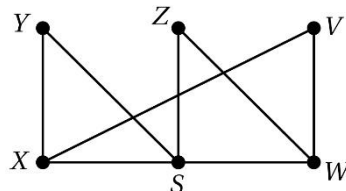


أ (مخطط أويلري

ب (مخطط شبه أويلري

ج (غير ذلك

10. أتاأمل المخطط المجاور ، ثم أأدد

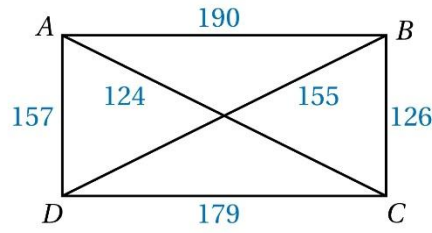


أ (مخطط أويلري

ب (مخطط شبه أويلري

ج (غير ذلك

11. أتاأمل المخطط المجاور ، ثم أأدد

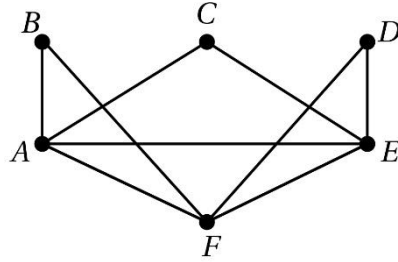


أ (مخطط أويلري

ب (مخطط شبه أويلري

ج (غير ذلك

12. أتاأمل المخطط المجاور ، ثم أأدد

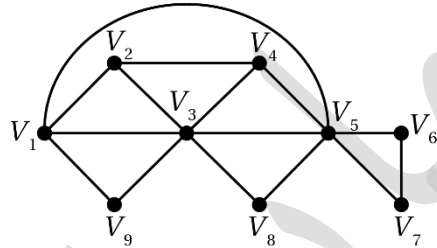


أ (مخطط أويلري

ب (مخطط شبه أويلري

ج (غير ذلك

13. أتاأمل المخطط المجاور ، ثم أأدد

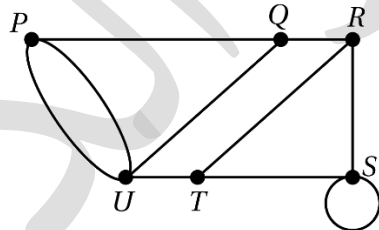


أ (مخطط أويلري

ب (مخطط شبه أويلري

ج (غير ذلك

14. أتاأمل المخطط المجاور ، ثم أأدد

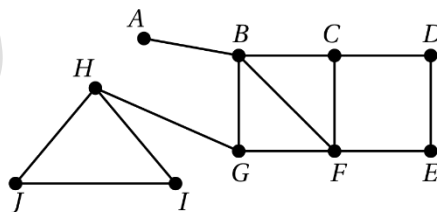


أ (مخطط أويلري

ب (مخطط شبه أويلري

ج (غير ذلك

15. أتاأمل المخطط المجاور ، ثم أأدد

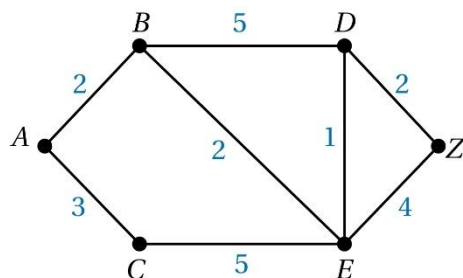


أ (مخطط أويلري

ب (مخطط شبه أويلري

ج (غير ذلك

16. أتاأمل المخطط المجاور ، ثم أأدد

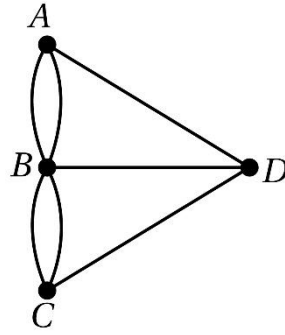


أ (مخطط أويلري

ب (مخطط شبه أويلري

ج (غير ذلك

17. أتاأل المخطط المجاور ، ثم أأأأ

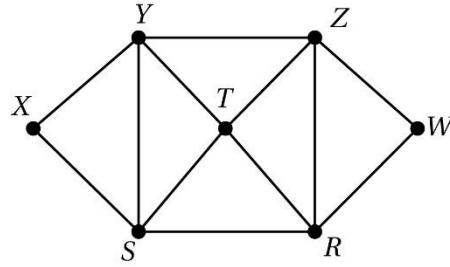


أ (مخطط أويلري

ب (مخطط شبه أويلري

ج (غير ذلك

18. أتاأل المخطط المجاور ، ثم أأأأ

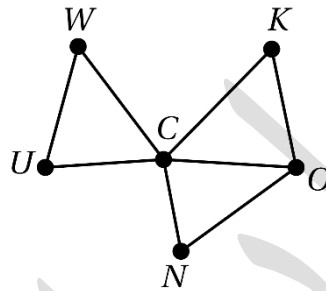


أ (مخطط أويلري

ب (مخطط شبه أويلري

ج (غير ذلك

19. أتاأل المخطط المجاور ، ثم أأأأ

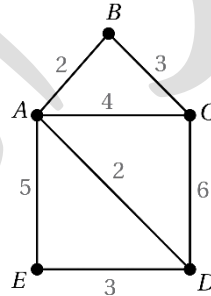


أ (مخطط أويلري

ب (مخطط شبه أويلري

ج (غير ذلك

20. أتاأل المخطط المجاور ، ثم أأأأ

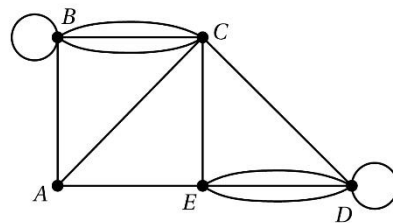


أ (مخطط أويلري

ب (مخطط شبه أويلري

ج (غير ذلك

21. أتاأل المخطط المجاور ، ثم أأأأ

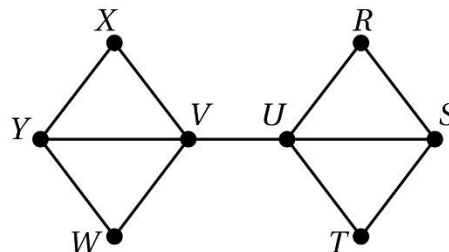


أ (مخطط أويلري

ب (مخطط شبه أويلري

ج (غير ذلك

22. أتاأل المخطط المجاور ، ثم أأأأ

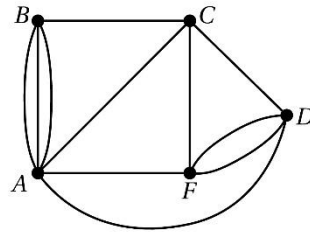


أ (مخطط أويلري

ب (مخطط شبه أويلري

ج (غير ذلك

23. أتاأل المخطط المجاور ، ثم أأأأ

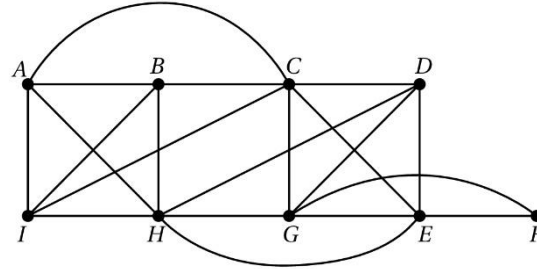


أ (مخطط أويلري

ب (مخطط شبه أويلري

ج (غير ذلك

24. أتاأل المخطط المجاور ، ثم أأأأ

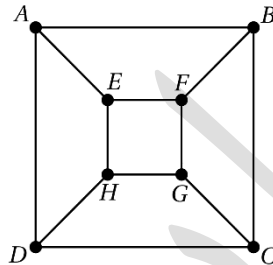


أ (مخطط أويلري

ب (مخطط شبه أويلري

ج (غير ذلك

25. أتاأل المخطط المجاور ، ثم أأأأ

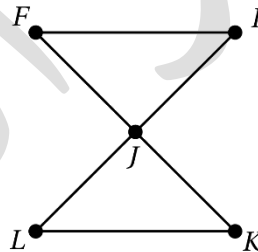


أ (مخطط أويلري

ب (مخطط شبه أويلري

ج (غير ذلك

26. أتاأل المخطط المجاور ، ثم أأأأ

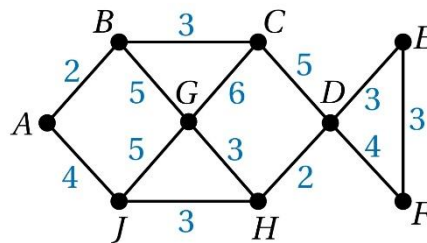


أ (مخطط أويلري

ب (مخطط شبه أويلري

ج (غير ذلك

27. أتاأل المخطط المجاور ، ثم أأأأ

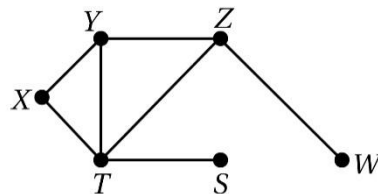


أ (مخطط أويلري

ب (مخطط شبه أويلري

ج (غير ذلك

28. أتاأل المخطط المجاور ، ثم أأأأ

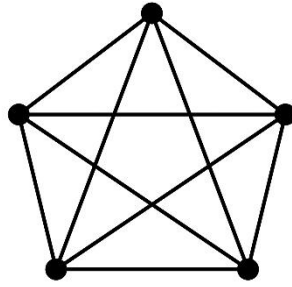


أ (مخطط أويلري

ب (مخطط شبه أويلري

ج (غير ذلك

29. أتاأل المخطط المجاور ، ثم أأدد

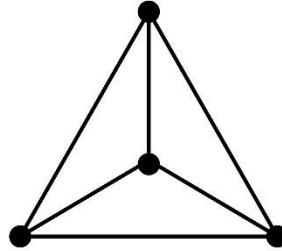


أ (مخطط أويلري

ب (مخطط شبه أويلري

ج (غير ذلك

30. أتاأل المخطط المجاور ، ثم أأدد

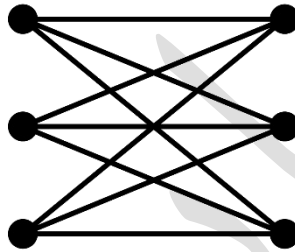


أ (مخطط أويلري

ب (مخطط شبه أويلري

ج (غير ذلك

31. أتاأل المخطط المجاور ، ثم أأدد

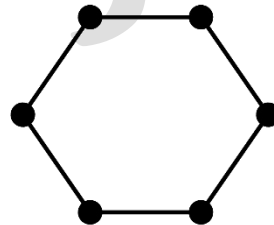


أ (مخطط أويلري

ب (مخطط شبه أويلري

ج (غير ذلك

32. أتاأل المخطط المجاور ، ثم أأدد

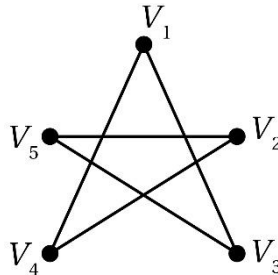


أ (مخطط أويلري

ب (مخطط شبه أويلري

ج (غير ذلك

33. أتاأل المخطط المجاور ، ثم أأدد

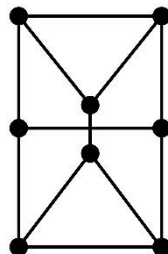


أ (مخطط أويلري

ب (مخطط شبه أويلري

ج (غير ذلك

34. أتاأل المخطط المجاور ، ثم أأدد

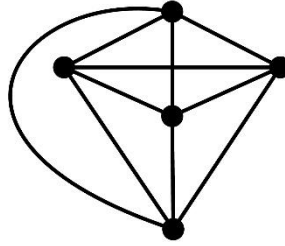


أ (مخطط أويلري

ب (مخطط شبه أويلري

ج (غير ذلك

35. أتاأل المخطط المجاور ، ثم أأأأ

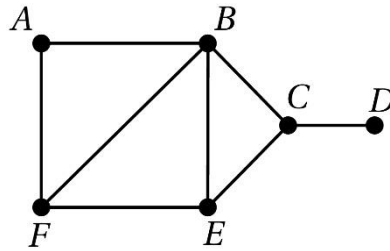


أ (مخطط أويلري

ب (مخطط شبه أويلري

ج (غير ذلك

36. أتاأل المخطط المجاور ، ثم أأأأ

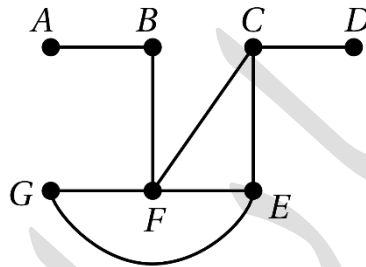


أ (مخطط أويلري

ب (مخطط شبه أويلري

ج (غير ذلك

37. أتاأل المخطط المجاور ، ثم أأأأ

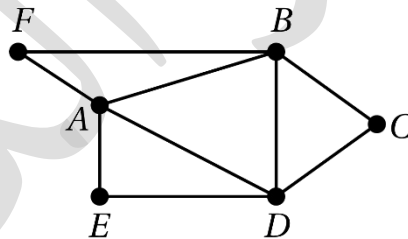


أ (مخطط أويلري

ب (مخطط شبه أويلري

ج (غير ذلك

38. أتاأل المخطط المجاور ، ثم أأأأ

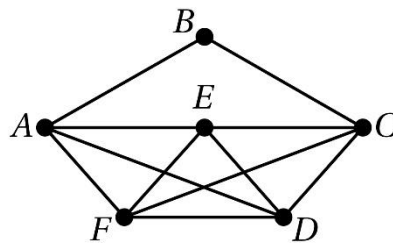


أ (مخطط أويلري

ب (مخطط شبه أويلري

ج (غير ذلك

39. أتاأل المخطط المجاور ، ثم أأأأ

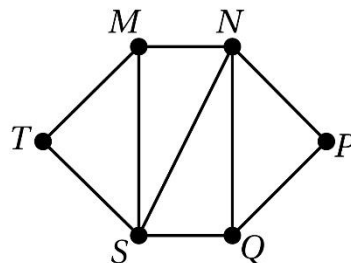


أ (مخطط أويلري

ب (مخطط شبه أويلري

ج (غير ذلك

40. أتاأل المخطط المجاور ، ثم أأأأ



أ (مخطط أويلري

ب (مخطط شبه أويلري

ج (غير ذلك

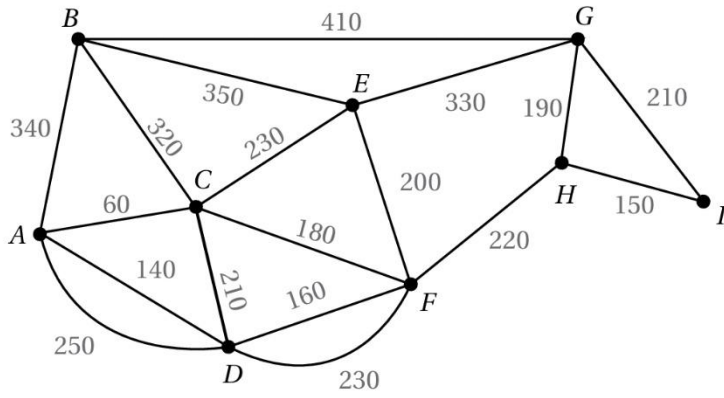
41. أجد طول أقصر مسار أويلري :

أ (2600)

ب (4600)

ج (3600)

د (1600)



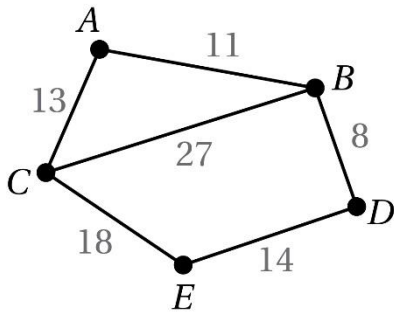
42. أجد طول أقصر مسار أويلري :

أ (115)

ب (120)

ج (125)

د (130)



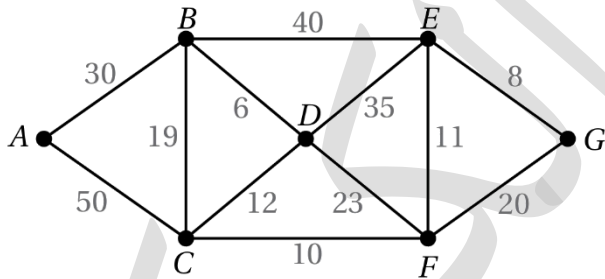
43. أجد طول أقصر مسار أويلري :

أ (262)

ب (263)

ج (264)

د (265)



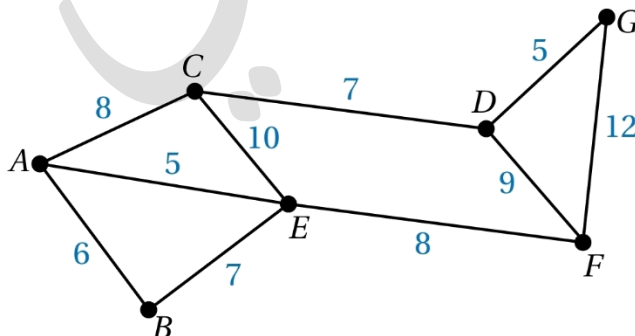
44. أجد طول أقصر مسار أويلري :

أ (91)

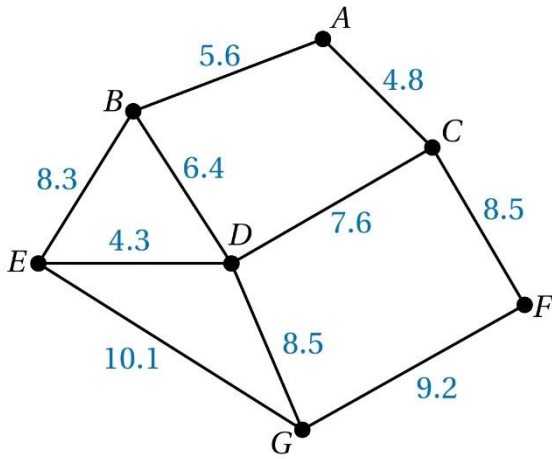
ب (92)

ج (93)

د (94)



45. أجد طول أقصر مسار أويلري :



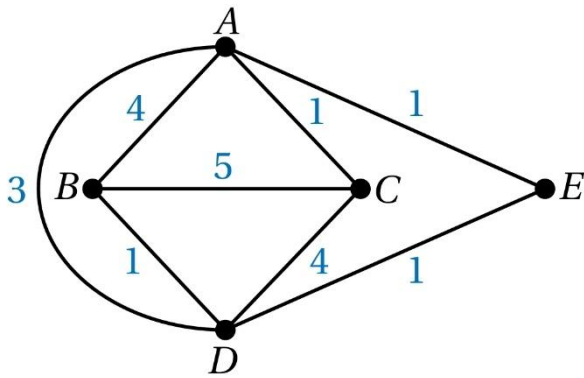
أ (93.8)

ب (92.8)

ج (91.8)

د (90.8)

46. أجد طول أقصر مسار أويلري :



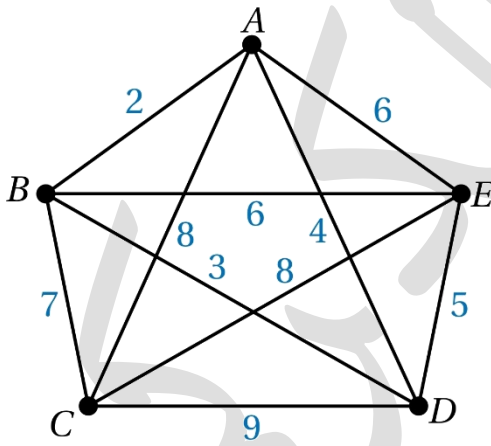
أ (24)

ب (25)

ج (26)

د (27)

47. أجد طول أقصر مسار أويلري :



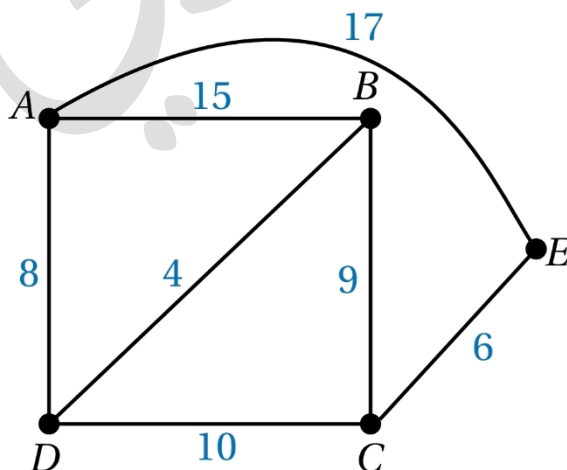
أ (56)

ب (57)

ج (58)

د (59)

48. أجد طول أقصر مسار أويلري :



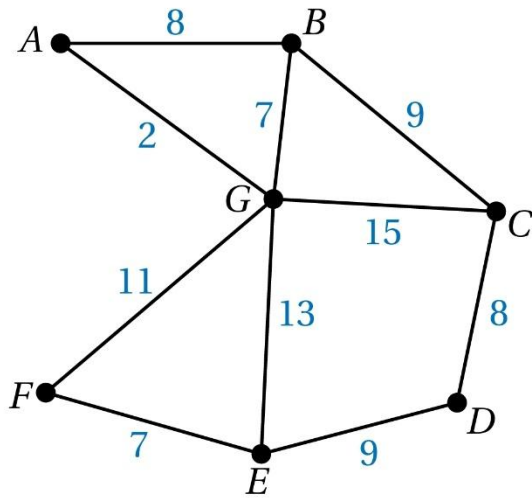
أ (83)

ب (84)

ج (85)

د (86)

49. أجد طول أقصر مسار أويلري :



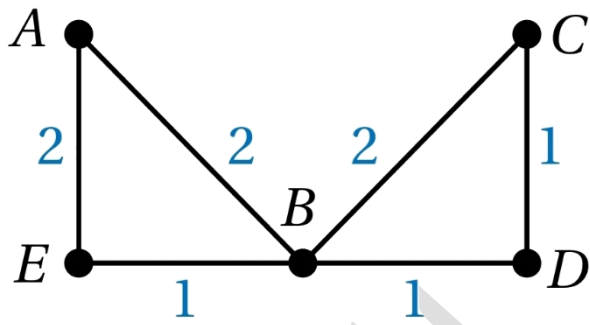
أ (109)

ب (110)

ج (111)

د (112)

50. أجد طول أقصر مسار أويلري :



أ (8)

ب (9)

ج (10)

د (11)

انتهت الاسئلة