

الوحدة الثانية: الدائرة

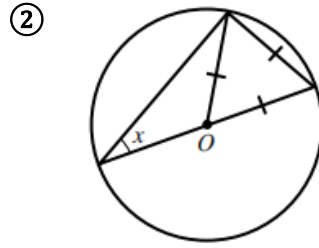
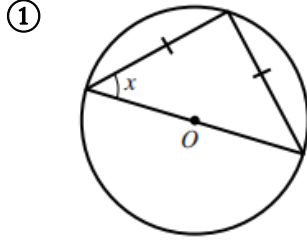
الزوايا في الدائرة 3

الصف العاشر: الفصل الأول

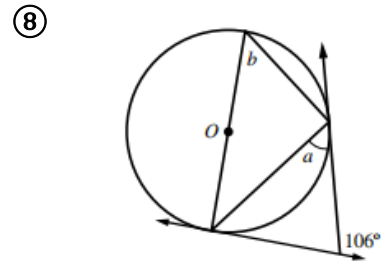
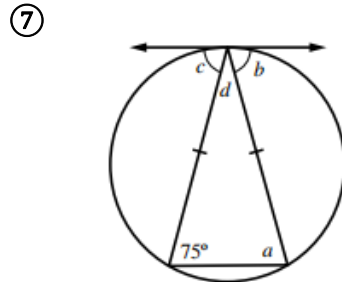
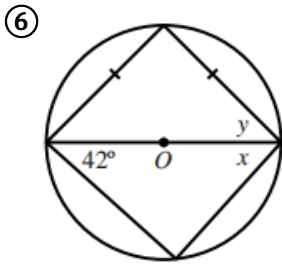
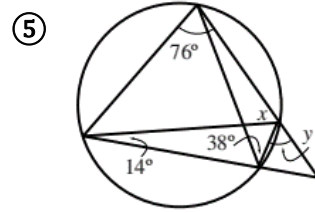
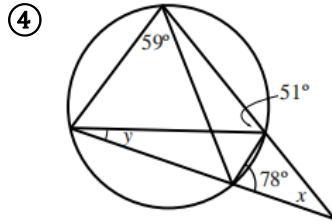
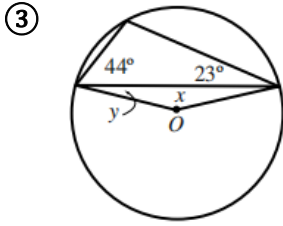
ورقة عمل (3)

إعداد الأستاذ أحمد أبو سويد

إذا كانت النقطة O هي مركز الدائرة، فما قيمة x في كل من الشكلين الآتيين؟



أجد قياس الزوايا المشار إليها بأحرف في ما يأتي (أفترض أن O هي مركز الدائرة):



⑨ تقع النقاط A و B و C و D على دائرة مركزها O . اعتماداً على القياسات المبينة في الشكل المجاور، أجد قياس

كل من الزاويتين OAC و BCA .

